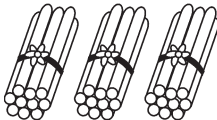



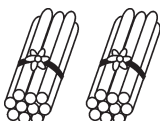
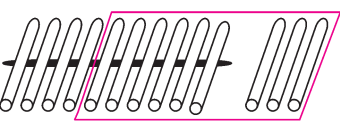
## 达标测试卷

题号	一	二	三	四	五	六	七	总分
得分								

## 一、先圈一圈,再计算。(7分)




1.   (圈法不唯一)




$36 + 5 = ( 41 )$ , 先算  $( 6 ) + ( 5 ) = ( 11 )$ , 再算  $( 30 ) + ( 11 ) = ( 41 )$ 。

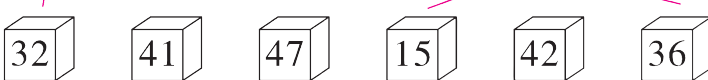
2.   (圈法不唯一)

$33 - 9 = ( 24 )$ , 先算  $( 13 ) - ( 9 ) = ( 4 )$ , 再算  $( 20 ) + ( 4 ) = ( 24 )$ 。

## 二、算一算,连一连。(6分)

  $23 + 9$         $45 - 9$         $21 - 6$

  $51 - 4$         $33 + 8$         $37 + 5$



Connections:  $23 + 9 \rightarrow 32$ ,  $45 - 9 \rightarrow 36$ ,  $21 - 6 \rightarrow 15$ ,  $51 - 4 \rightarrow 47$ ,  $33 + 8 \rightarrow 41$ ,  $37 + 5 \rightarrow 42$ .

## 三、在○里填上“&gt;”“&lt;”或“=”。(6分)

$65 - 9 \bigcirc 56$

$27 + 19 \bigcirc 50$

$65 \bigcirc 28 + 36$

$29 + 12 \bigcirc 40$

$42 - 27 \bigcirc 20$

$70 \bigcirc 84 - 8$

#### 四、算一算。(共 12 分)

1. 直接写出得数。(4 分)

$61+10=71$

$85-5=80$

$75+5=80$

$38+3-9=32$

$26-20=6$

$35-10=25$

$8+82=90$

$47-40+8=15$

2. 列竖式计算。(8 分)

$59+26=85$

$67+19=86$

$81-65=16$

$70-26=44$

$$\begin{array}{r} 59 \\ +26 \\ \hline 85 \end{array}$$




$$\begin{array}{r} 67 \\ +19 \\ \hline 86 \end{array}$$

$$\begin{array}{r} 81 \\ -65 \\ \hline 16 \end{array}$$

$$\begin{array}{r} 70 \\ -26 \\ \hline 44 \end{array}$$

#### 五、按要求做一做。(共 34 分)

1. 开火车。(6 分)



2. 按要求把算式的序号填在相应的圈里。(8 分)

①  $27+34$

②  $6+46$

③  $66-10$

④  $42+19$

⑤  $91-29$

⑥  $19+49$

⑦  $84-25$

⑧  $37+26$

得数是五十多的



得数是六十多的



3. 算一算,填一填。(8 分)

加数	35	49	29	45
加数	8	16	53	9
和	43	65	82	54

被减数	70	61	56	67
减数	8	7	40	28
差	62	54	16	39

4. 找规律填数。(6分)

(1) 12, 17, 22, 27, 32, ( 37 ), ( 42 ), 47。

(2) 80, 72, 64, 56, 48, ( 40 ), ( 32 ), 24。

(3) 8, 20, 32, 44, 56, 68, ( 80 ), ( 92 )。

5. 在括号里填上合适的数。(6分)

$$16 + ( 9 ) = 25$$

$$( 58 ) - 13 = 45$$

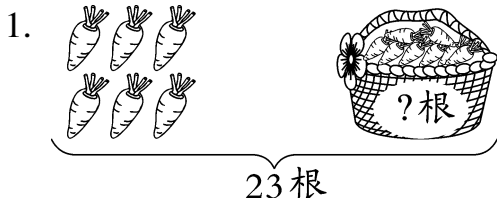
$$27 + ( 27 ) = 54$$

$$37 + ( 5 ) = 42$$

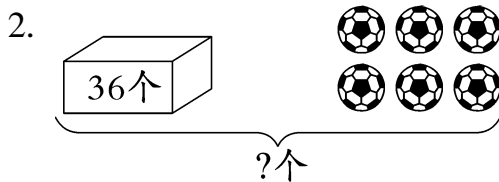
$$( 80 ) - 24 = 56$$

$$35 + ( 28 ) = 63$$

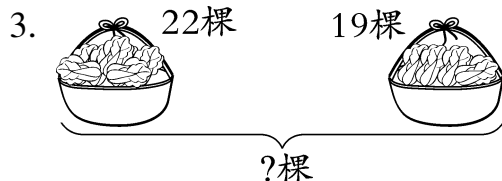
六、看图列式计算。(12分)



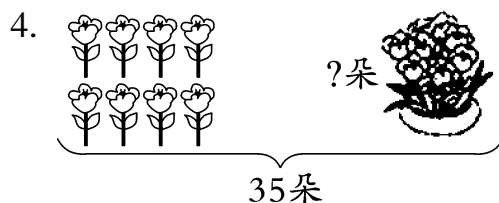
$$\boxed{23} - \boxed{6} = \boxed{17}$$



$$\boxed{36} + \boxed{6} = \boxed{42}$$



$$\boxed{22} + \boxed{19} = \boxed{41}$$



$$\boxed{35} - \boxed{8} = \boxed{27}$$

七、解决问题。(共23分)

1. 一共有多少人?(3分)



$$\boxed{36} + \boxed{18} = \boxed{54} \text{ ( 人 )}$$

2. 原来有多少只小鸡?(3分)



$$\boxed{15} + \boxed{18} = \boxed{33} \text{ ( 只 )}$$

3. 购买玩具。(9 分)



29 元





38 元



8 元



1 元



(1) 一只  比一辆  贵多少元钱?



【答案】 $38-29=9$ (元)

口答:一只  比一辆  贵 9 元钱。

(2) 买一辆  和一个  一共需要多少元钱?

【答案】 $29+8=37$ (元)

口答:买一辆  和一个  一共需要 37 元钱。

(3) 用 50 元钱买一辆  后,剩下的钱可以买多少个  ?

【答案】 $50-29=21$ (元) 21 元可以买 21 个 .

口答:剩下的钱可以买 21 个 .

4. (创新题)把 10,17,23,25,30 这五个数分别填入下面的方格中,使横行和竖行上的三个数之和都为 65。(8 分)

	17	
10	25	30
	23	

(填法不唯一)